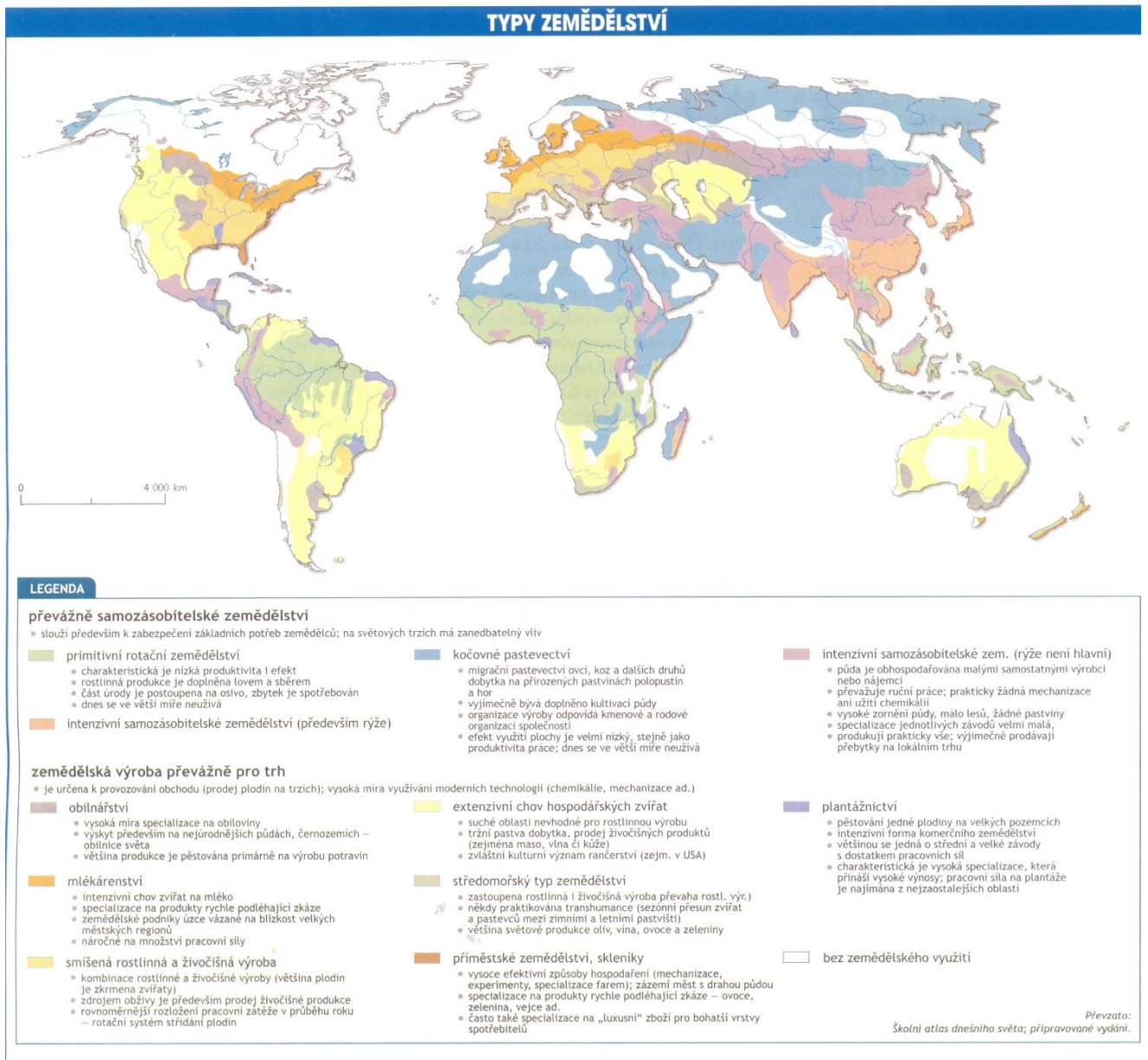


Zemědělství

ÚKOL:

Žáci podle mapy uvedou oblasti, které reprezentují jednotlivé typy zemědělství. Do legendy doplní alespoň pět probraných anglických výrazů.



Zdroj: Dnešní svět, číslo 1, ročník 2010/2011

ZEMĚDĚLSKÁ VÝROBA V MAKROREGIONECH



Porovnejte postavení zemědělské výroby v rámci jednotlivých makroregionů světa.

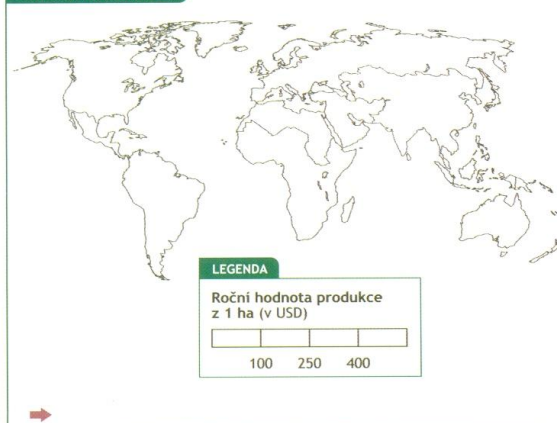
S pomocí dat uvedených v tabulce vytvořte pro každý ukazatel kartogram, a to tak, že si určíte barevnou škálu a s pomocí hodnot uvedených v legendě vybarvíte příslušné regiony. Legenda je připravena tak, aby se dvě kategorie nacházely pod světovým průměrem a dvě nad světovým průměrem. To vám pomůže určit postavení makroregionu v rámci světa.

Vždy po dokončení kartogramu formulujte závěry o rozložení daného ukazatele ve světě. Tyto závěry napište na linku připravenou u každé mapy.

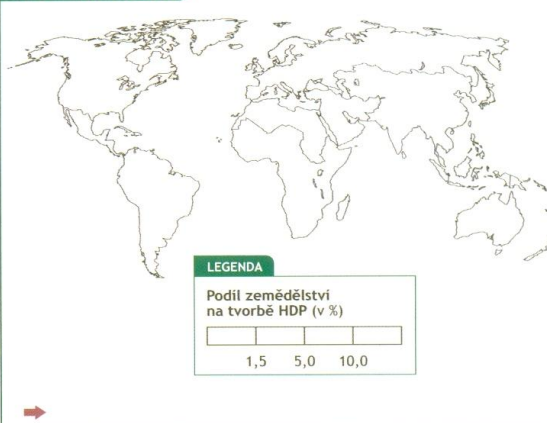
Na závěr, po dokončení všech čtyř kartogramů, zhodnotte celkové postavení zemědělské výroby v jednotlivých makroregionech. Tyto závěry si запиšte.

Poznámka: Údaje jsou za rok 2007.

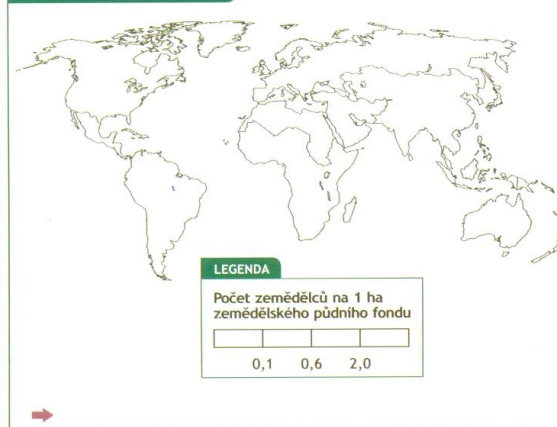
HODNOTA PRODUKCE



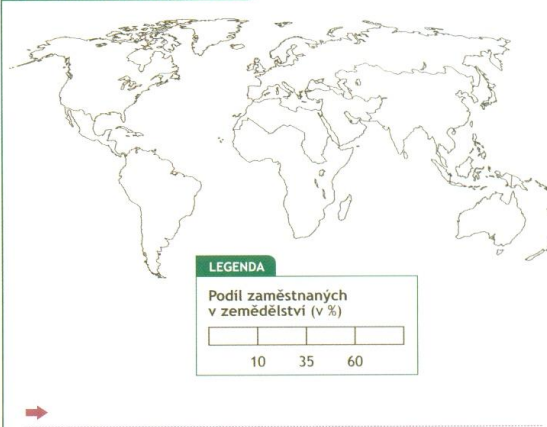
VÝZNAM ZEMĚDĚLSTVÍ



PRACOVNÍCI V ZEMĚDĚLSTVÍ



ZAMĚŠTNANOST V ZEMĚDĚLSTVÍ



VSTUPNÍ HODNOTY

Region	A	B	C	D
Ostatní Asie	451	6,2	2,04	55,4
Evropa (+ Rusko)	467	2,0	0,09	7,5
Blízký východ a sev. Afrika	237	12,6	0,51	30,3
Subsaharská Afrika	52	16,4	0,96	60,5
Severní Amerika	291	1,2	0,01	1,9
Střední Amerika a Karibik	295	5,2	0,40	21,8
Jižní Amerika	165	6,7	0,22	16,0
Oceánie	43	3,1	0,06	19,4
SVĚT	269	3,2	0,87	43,1

Vysvětlivky:

A = Roční hodnota produkce z 1 ha (v USD)

B = Podíl zemědělství na HDP (v %)

C = Počet zemědělců na 1 ha zemědělského půdního fondu

D = Podíl zaměstnaných v zemědělství z celkového počtu pracujících (v %)

VYMEZENÍ REGIONŮ



Zdroje dat:
<http://earthtrends.wri.org>
<http://faostat.fao.org>

